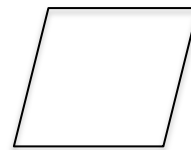
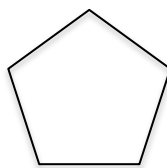
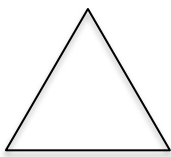


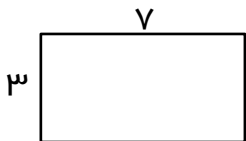
نام و نام خانوادگی: مدرسه : وقت آزمون: ۴۰ دقیقه

۱ علی ۱۲ عکس ماشین دارد. برادرش ۶ عکس ماشین کمتر از او دارد. این دو برادر روی هم چند عکس ماشین دارند؟

۲ این شکل ها را نام گذاری کنید و نام هر شکل را زیر آن بنویسید.

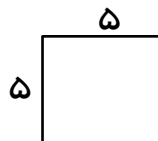


۳ محیط و مساحت شکل های زیر را حساب کنید.



محیط:

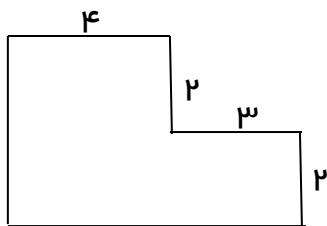
مساحت:



محیط:

مساحت:

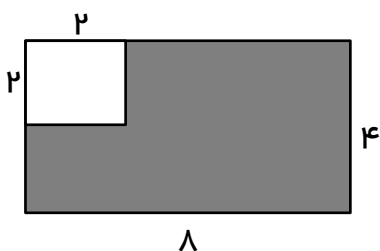
۴ ابتدا اندازه ی ضلع هایی را که داده نشده است، پیدا کنید. سپس ، محیط و مساحت شکل را به دست آورید.



محیط:

مساحت:


۵ مساحت قسمت رنگی شکل زیر را به دست آورید.



<p>مساحت مستطیلی ۴۸ سانتی متر مربع است. اگر یک ضلع آن ۶ سانتی متر باشد، ضلع دیگرش چند سانتی متر است؟ (با رسم شکل)</p>	۶
<p>پدر علی یک فرش ۷ در ۹ متر خریده است. مساحت این فرش چند متر مربع است؟ (با رسم شکل)</p>	۷

خودسنجی:

من از این آزمون یاد گرفتم.....



وضعیت من در این آزمون:

بازخورد آموزگار:.....

موفق باشید